

Chapitre 6

L'aire des solides

6.1 Les solides

6.2 L'aire des prismes

6.4 L'aire des cylindres

6.3 L'aire des pyramides

6.5 L'aire des solides décomposables

& recherche de mesure manquante



Notes de cours

Mathématiques 2^e secondaire

Mai 2020

Étape 3

Nom : _____

Groupe : _____

*Ce document de notes de cours a été préparé par Josiane Richard et Mylène Picotte
Et a été inspiré de :*

© www.madameblanchette.com

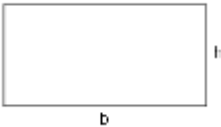


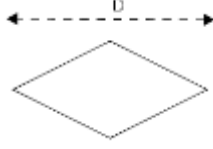
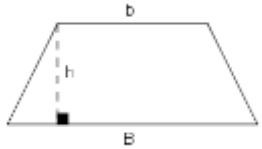
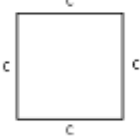
©LesÉditionsCEC Point de mire 2012 (Chapitre 6)

©[recitmst.qc.ca/guylaine_veilleux/IMG/pdf/Notes de cours-2.pdf](http://recitmst.qc.ca/guylaine_veilleux/IMG/pdf/Notes_de_cours-2.pdf)

©alloprof.qc.ca

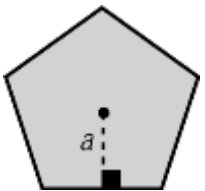
©lexique.netmath.ca

L'aire des polygones

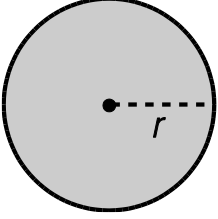
Figure	Aire	Figure	Aire
Rectangle		Parallélogramme	
	$A = b \cdot h$		$A = b \cdot h$
Triangle		Losange	
	$A = \frac{b \cdot h}{2}$		$A = \frac{D \cdot d}{2}$
Trapèze		Carré	
	$A = \frac{(B + b) \cdot h}{2}$		$A = c^2$

Les polygones réguliers.

Un polygone régulier est un polygone dont tous ses côtés ainsi que tous ses angles sont isométriques.

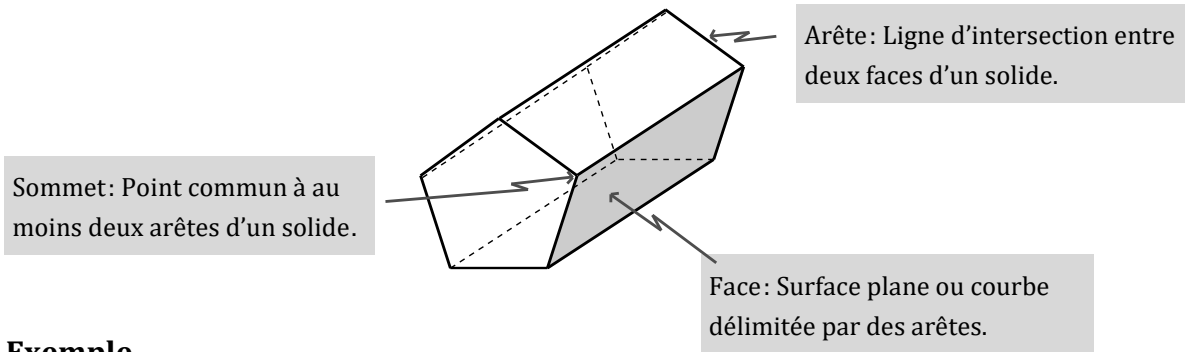
<u>Figure</u>	<u>Périmètre</u>	<u>Aire</u>
Pentagone régulier 	$P = n \cdot c$ Où n est le nombre de côtés Et c est la mesure d'un côté du polygone	$A = \frac{c \cdot a \cdot n}{2}$ Souvent, on emploie la formule $A = \frac{P \cdot a}{2}$ Où P est le périmètre et a est l'apothème du polygone

Le cercle

<u>Figure</u>	<u>Circonférence</u>	<u>Aire</u>
	$c = \pi d$ ou $c = 2\pi r$ Où r est le rayon et d est le diamètre	$A = \pi r^2$ Où r est le rayon

Les Solides

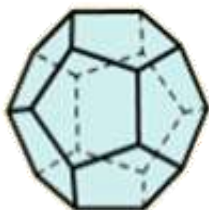
On peut décrire un solide à l'aide de **faces**, d'**arêtes** et de **sommets**.



Exemple




Ce solide a _____ faces, _____ arêtes et _____ sommets.



Ce solide a _____ faces, _____ arêtes et _____ sommets.

La classification des solides

Un solide est une portion de l'espace _____ délimitée par une surface fermée. Il existe 2 familles de solide : Les corps ronds et les polyèdres.



Les corps ronds

Un corps rond est un solide limité par au moins une surface _____.

Les polyèdres

Un polyèdre est un solide limité par des faces _____ qui sont des _____.

Boule



Cône



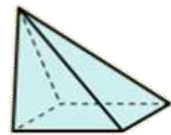
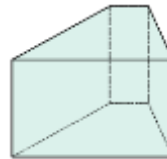
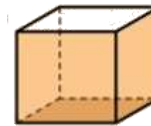
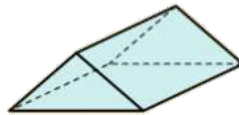
Cylindre



Prisme



Pyramide



Prisme ou pyramide
RÉGULIER (ère)

Un prisme ou une pyramide est régulier(ère) si ses (sa) bases sont des polygones



Prisme ou pyramide
DROIT(E) Tous les prismes et pyramides étudiés en secondaire 2 sont DROITS

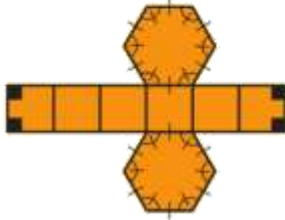
Développement d'un solide

Le développement d'un solide est la **figure plane** obtenue par la **mise à plat** de la surface du polyèdre.

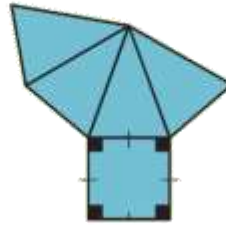
Exemple :

Associe les développements des solides suivants à l'un de 5 polyèdres suivant qui lui correspond :

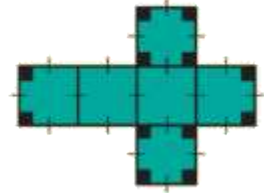
a) Développement 1



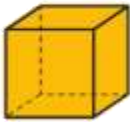
b) Développement 2



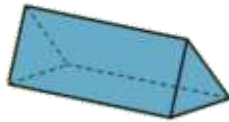
c) Développement 3



A



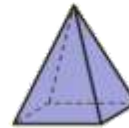
B



C



D



E

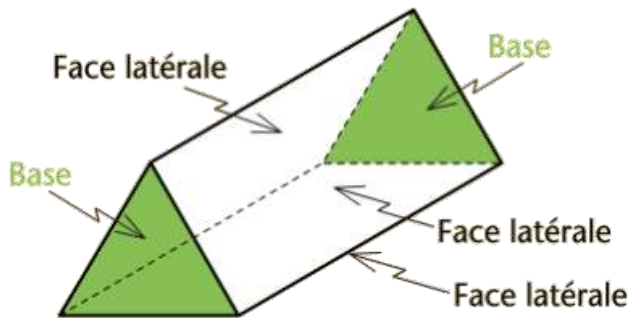


Les prismes

Tout prisme droit possède _____.

Ces bases sont _____.



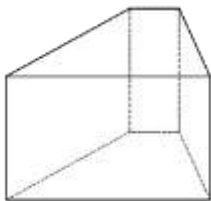
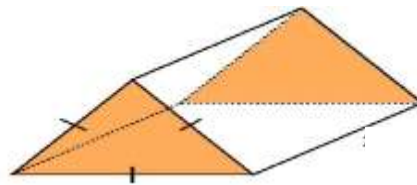
Les rectangles qui relient ces deux bases se nomment _____.



Remarque : Un prisme a autant de faces latérales que le polygone formant sa base a de côtés.

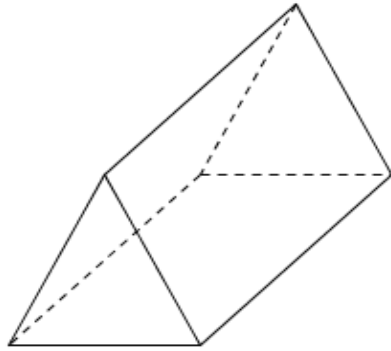


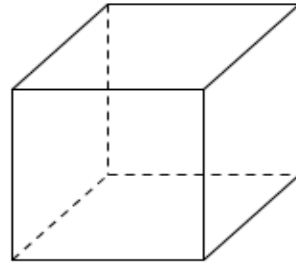
La **hauteur** d'un prisme droit correspond à la distance entre _____.

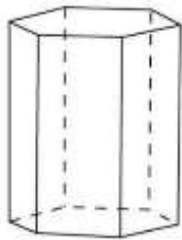


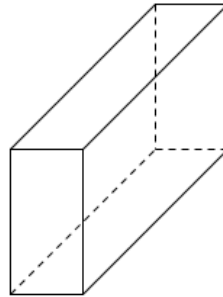
Nom des prismes On identifie un prisme selon les polygones qui forment ses bases.

Exemple : Nomme les prismes suivants et identifie leurs bases, leur hauteur et leurs faces latérales









L'aire d'un prisme

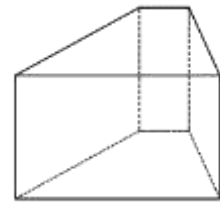
Formule

Aire totale d'un prisme = Aire des 2 bases + Aire latérale

$$A_T = 2A_B + A_L$$

Aire des 2 bases ($2 \cdot A_B$)

L'aire des bases est l'aire des deux polygones formant les bases de ce prisme. On utilise les formules d'aire des polygones (voir page 1)



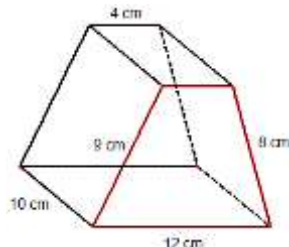
Aire latérale (A_L)

L'aire latérale d'un prisme est la somme des aires de toutes ses faces latérales. Elle peut se calculer de deux façons :

1^{re} façon de calculer A_L

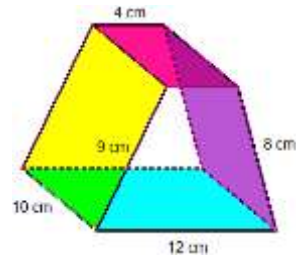
$$A_L = P_B \cdot h_S$$

P_B : Périmètre de la base
 h_S : Hauteur du solide



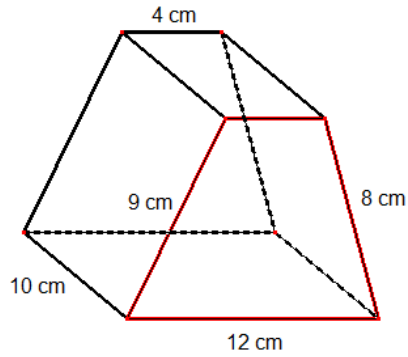
2^e façon de calculer A_L

$A_L =$ Somme de toutes les faces latérales



Trouve l'aire latérale du prisme à base trapézoïdale avec les deux façons différentes de la page précédente :

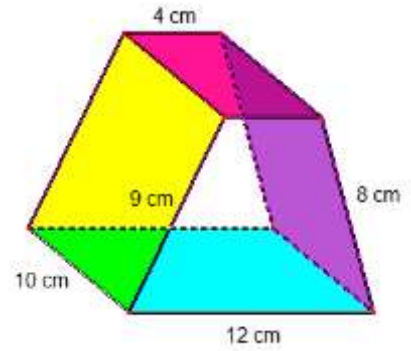
a) 1^{re} façon de calculer A_L



$$A_L = P_B \cdot h_s$$

Aire latérale : _____

b) 2^e façon de calculer A_L

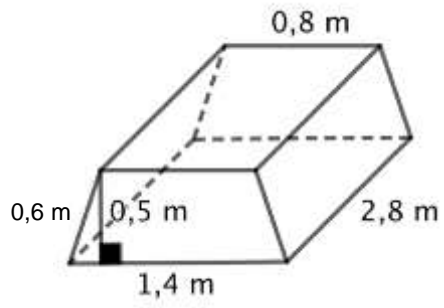


$$A_L = \text{Somme de toutes les faces latérales}$$

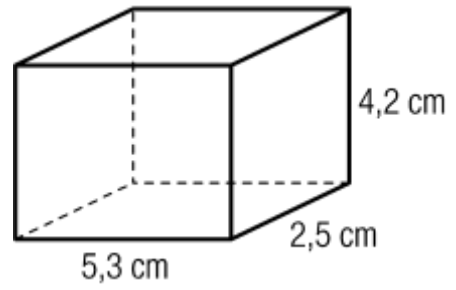
Aire latérale: _____

Exercices : Trouve l'aire totale des prismes suivants :

a)



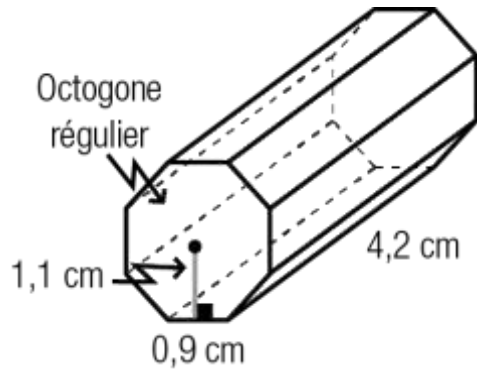
b)



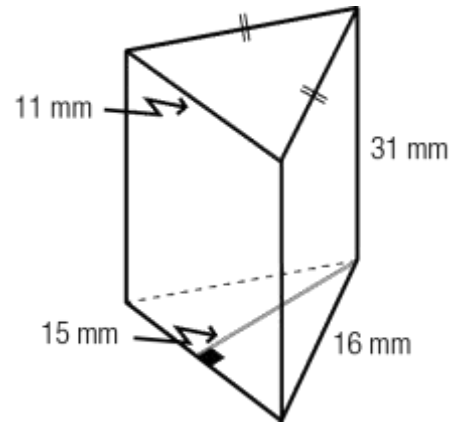
Aire totale : _____

Aire totale : _____

c)



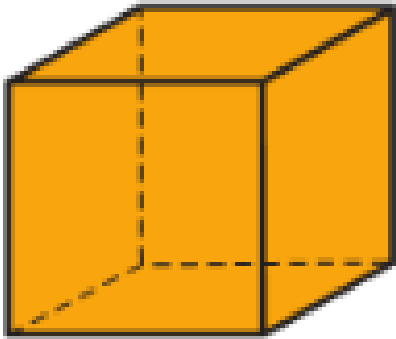
d)



Aire totale : _____

Aire totale : _____

Prisme particulier : Le cube



Le cube est un prisme à base _____ dont les faces latérales sont aussi des _____.

Il existe donc une formule simplifiée pour l'aire totale de ce prisme.

Voici comment arriver à la formule simplifiée de l'aire totale d'un cube

$$A_T = 2 \cdot A_B + A_L$$

$$A_T = 2 A_B + P_B \cdot h_s$$

$$A_T =$$

$$A_T =$$

$$A_T =$$

L'aire d'un CUBE

Formule

.....

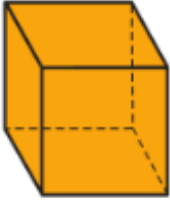
$$A_T = 6c^2$$

.....

Où c est la mesure de l'arête du cube


Exercices

- a) Détermine l'aire de ce cube si la mesure d'un côté est de 3,2 cm. Arrondie ta réponse au centième près.



Aire du cube : _____

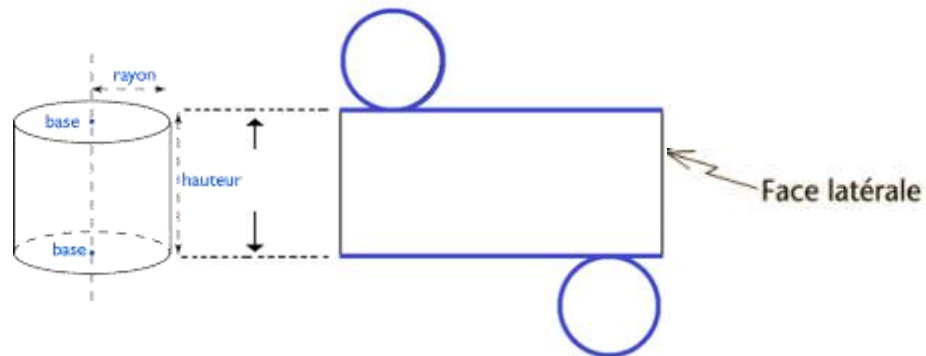
- b) Le cube Rubik est un des jeux de casse-tête les plus vendus au monde. Il est formé de 26 petits cubes fixés à un axe central qui permet leur déplacement afin de les disposer par couleur sur chaque face du cube. L'aire totale d'un cube Rubik est de $223,26 \text{ cm}^2$, calcule la mesure d'un des petits côtés des faces carrés formant ce cube (le côté d'un petit collant de couleur). Arrondi ta réponse au centième près.



Mesure des côtés d'un petit carré _____

Le cylindre

Un cylindre est comme un « _____ » dont les deux bases sont _____ isométriques et dont la face latérale est _____



La **hauteur** est la distance entre _____.

L'aire d'un cylindre

Voici comment arriver à la formule de l'aire totale d'un cylindre à partir de l'aire totale du prisme

$$A_T = 2 \cdot A_B + A_L$$

$$A_T = 2 \cdot A_B + P_B \cdot h_s$$

$$A_T = \quad +$$

A_T : Aire totale du solide

A_B : Aire de la base

A_L : Aire latérale

h_s : Hauteur du solide

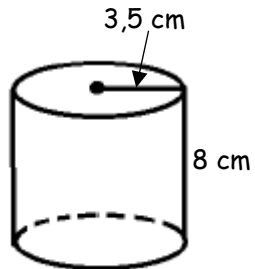
r : Rayon de la base

Formule

$$A_T = 2\pi r^2 + 2\pi r h$$

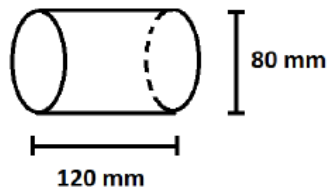
Exercices:

- a) Détermine l'aire LATÉRALE du cylindre suivant. Arrondi ta réponse au centième près.



Aire latérale: _____

- b) Détermine l'aire totale de ce cylindre. Donne la réponse exacte, puis, la réponse arrondie au centième près.

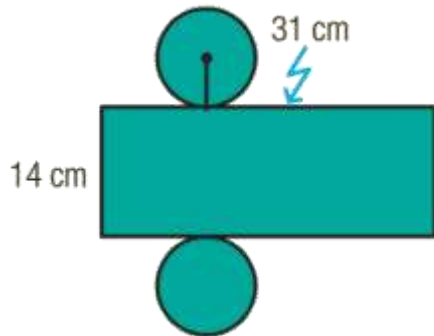


Aire totale valeur exacte : _____

Aire totale réponse arrondie au centième près : _____

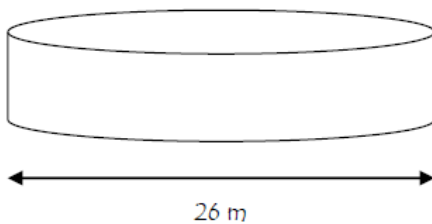
Trouver une mesure manquante dans un cylindre

a) Trouve le rayon de ce cylindre connaissant les mesures suivantes :



Mesure du rayon de la base du cylindre : _____

b) Trouve la hauteur de ce cylindre, sachant que son aire totale est de $598\pi \text{ m}^2$.

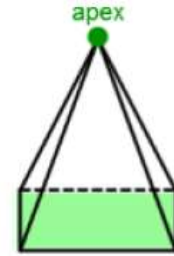


Mesure de la hauteur du cylindre : _____

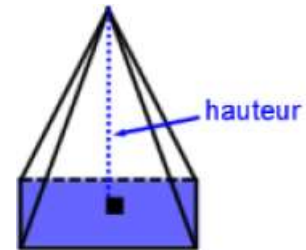
Les pyramides

Toute pyramide possède une seule _____
formée d'un polygone.

Le sommet de la pyramide se nomme l'_____.

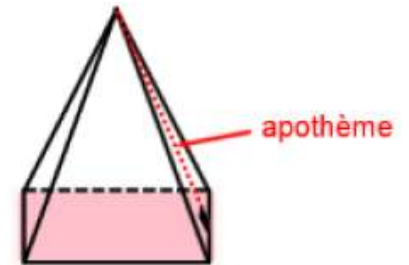


La _____ d'une pyramide est la distance entre
_____ et le centre de sa _____.

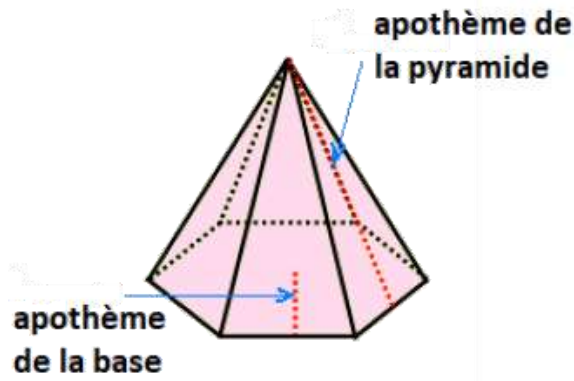


L'_____ d'une pyramide régulière est le
segment abaissé perpendiculairement de l'_____
vers le côté_____.

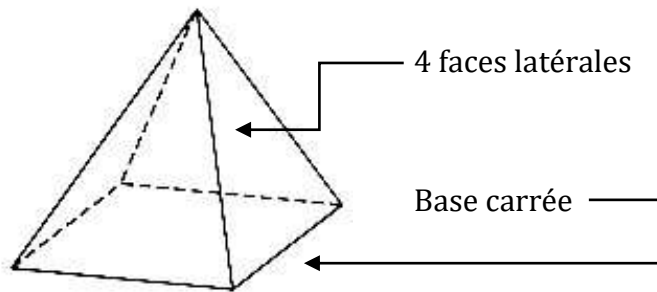
En d'autres mots, il correspond à la _____
du triangle formant une face latérale.



Remarque Il faut faire **ATTENTION** de ne pas mélanger l'apothème DE LA PYRAMIDE
avec l'apothème DE LA BASE lorsque la base est un polygone régulier.



Dans une pyramide régulière, les faces latérales sont des _____.



Remarque : Une pyramide a autant de faces latérales que le polygone formant sa base a de côtés.

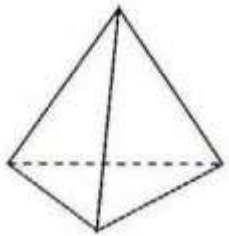


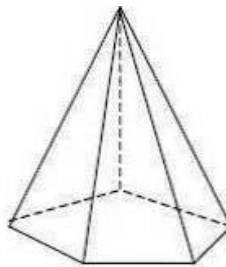
Nom des pyramides :

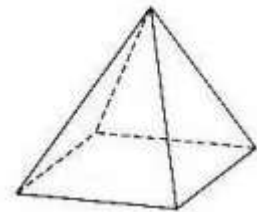
Tout comme les prismes, on nomme une pyramide d'après _____.

Exemple :

Nomme les pyramides selon leur base.







L'aire d'une pyramide

Formule

Aire totale d'une pyramide = Aire de la base + Aire latérale

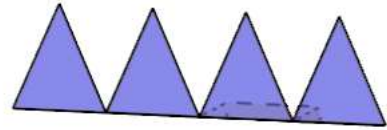
$$A_T = A_B + A_L$$

Aire de la base (A_B)

C'est l'aire du polygone formant la base de la pyramide. On utilise les formules d'aire des polygones (voir page 1)



Aire latérale (A_L)



L'aire latérale d'un prisme est la somme des aires de toutes ses faces latérales. Elle peut se calculer de deux façons :

1^{re} façon de calculer A_L

$$A_L = \frac{P_B \cdot a_P}{2}$$


On privilégie cette façon si la base de la pyramide est un polygone régulier

ou

2^e façon de calculer A_L

$$A_L = \text{Somme de toutes les faces latérales}$$

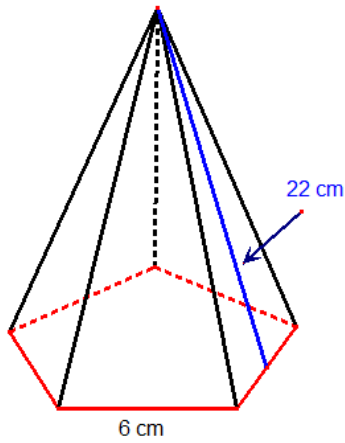
On privilégie cette façon si la base de la pyramide est un polygone irrégulier



Exercices :

Trouve l'aire latérale des deux pyramides.

a)



$$A_L = \frac{P_B \cdot a_P}{2}$$

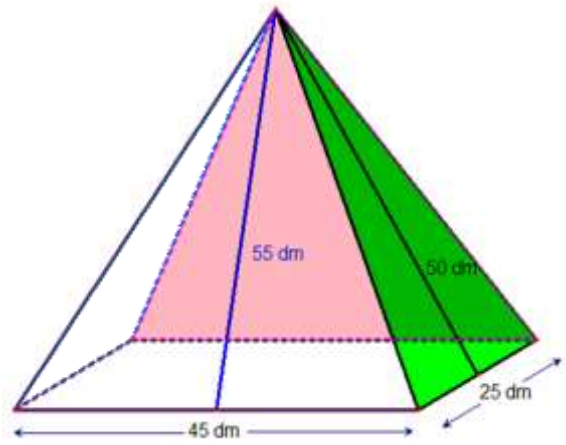
A_L : Aire latérale

P_B : Périmètre de la base

a_P : Apothème de la pyramide

Aire latérale: _____

b)



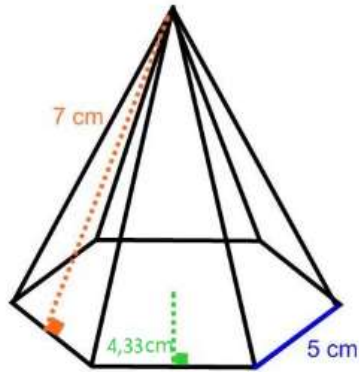
$$A_L = \text{Somme de toutes les faces latérales}$$

Aire latérale : _____

Détermine l'aire totale des pyramides suivantes.

ATTENTION !! Lorsque la base de la pyramide est un polygone régulier, il y a deux apothèmes dans le solide. Il ne faut pas les mélanger.

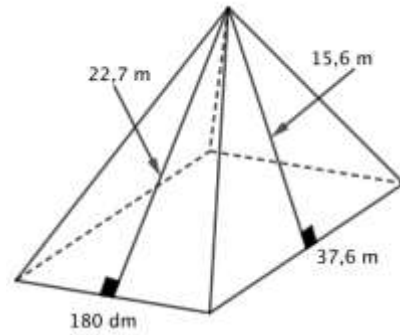
a) Quelle est l'aire totale de cette pyramide?



b)

Aire totale : _____

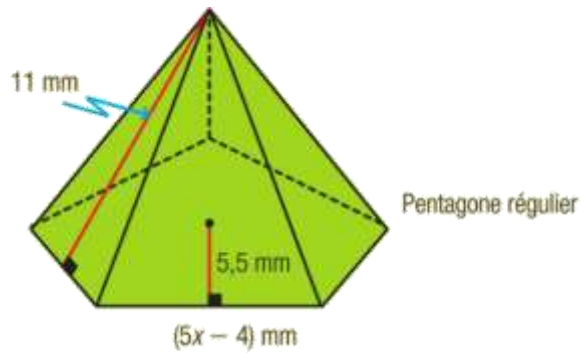
c) Quelle est l'aire totale de cette pyramide à base rectangulaire?



Aire totale : _____

Un peu d'algèbre...

- 1) Quelle expression algébrique réduite nous donne l'aire totale de cette pyramide?

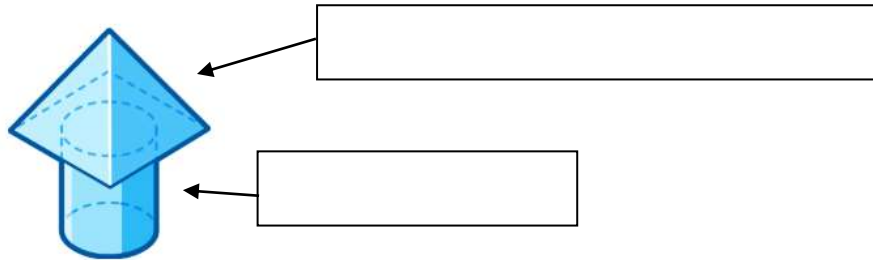


Expression algébrique réduite de l'aire totale : _____

L'aire des solides décomposables

Un solide décomposable est un solide composé de différents solides connus et superposés.

Exemple :

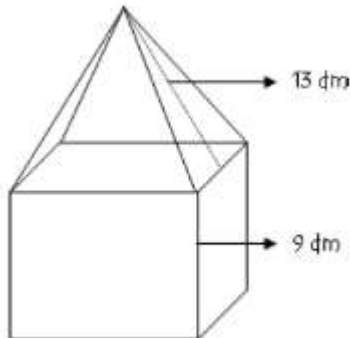


Pour trouver l'aire d'un solide décomposable, il faut :

- Décomposer le solide en plusieurs solides connus;
- Trouver l'aire **VISIBLE** de chaque solide connu individuellement;
- Additionner toutes les aires trouvées (seulement ce qui est **VISIBLE**).


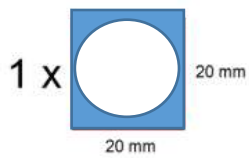
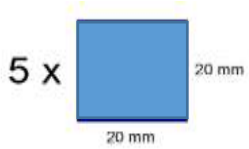
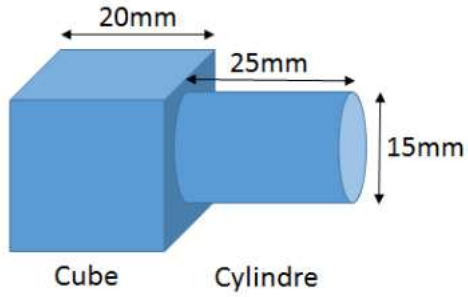
Exemples :

1) Trouve l'aire totale de ce solide décomposable formé d'un cube et d'une pyramide.



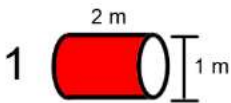
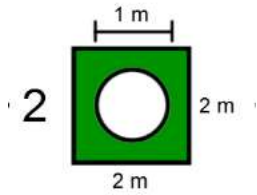
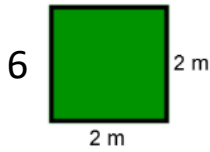
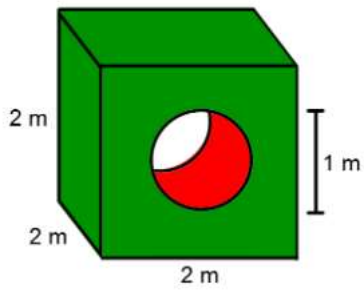
Aire du solide décomposable: _____

2) Trouve l'aire totale de ce solide décomposable formé d'un cube et d'un cylindre



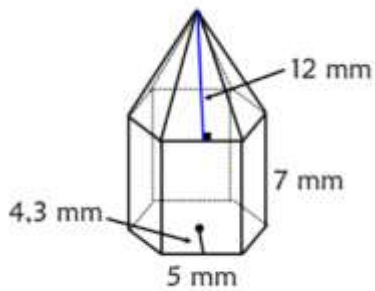
Aire du solide décomposable: _____

3) Trouve l'aire totale de ce solide décomposable concave. Il est formé d'un cube avec un TROU cylindrique à l'intérieur



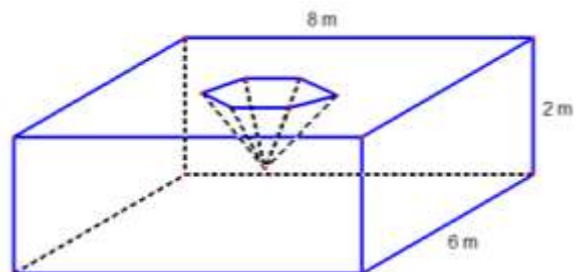
Aire du solide décomposable: _____

- 4) Trouve l'aire totale de ce solide formé d'une pyramide et d'un prisme à base hexagonale



Aire du solide décomposable: _____

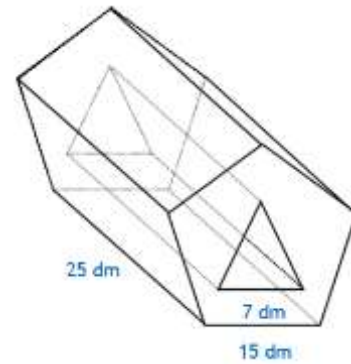
- 5) Trouve l'aire totale du solide concave ci-dessous. C'est une pyramide à base hexagonale creusée à l'intérieur d'un prisme.



Périmètre de la base de la pyramide: 3 m
 Apothème de la base de la pyramide: 0,2 m
 Apothème d'une face latérale de la pyramide: 1,2 m

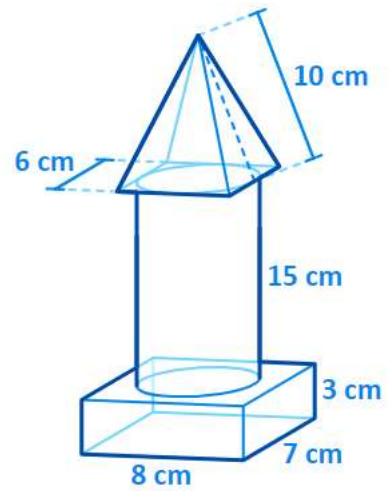
Aire du solide décomposable: _____

- 6) Détermine l'aire totale de ce solide percé, sachant que l'apothème de la base du prisme à base pentagonale est de 12,75 dm. Le trou a la forme d'un prisme régulier à base triangulaire. Le triangle a une hauteur de 60 cm.



Aire du solide décomposable: _____

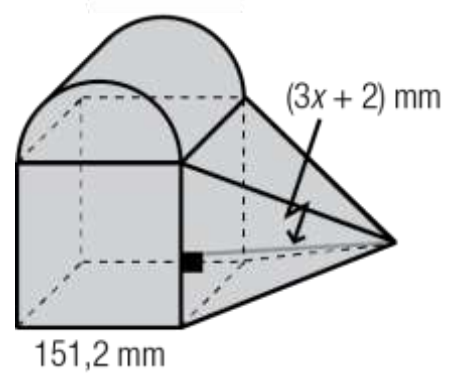
- 7) Détermine l'aire totale de ce solide décomposable formé à la base d'un prisme à base rectangulaire surmonté d'un cylindre puis d'une pyramide à base carrée.



Aire du solide décomposable: _____

Un peu d'algèbre...

Quelle expression algébrique réduite nous donne l'aire totale de ce solide décomposable formé d'un cube, d'un demi-cylindre et d'une pyramide à base carrée ?



Expression algébrique réduite représentant l'aire du solide décomposable:

La recherche de mesure manquante

Démarche à suivre :

.....

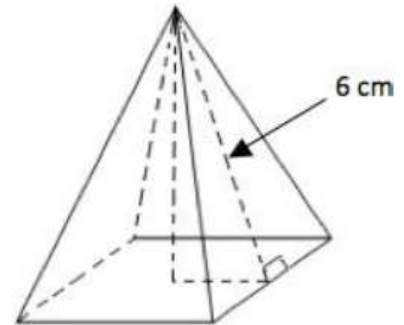
- ♥ On écrit la **formule d'aire** du solide (l'aire totale ou l'aire latérale)
- ♥ On **remplace** les variables connues par les mesures données
 - On obtiendra une équation algébrique à résoudre
- ♥ On fait les calculs selon les priorités d'opération
 - On RÉDUIT
- ♥ On isole la mesure manquante recherchée
 - On RÉSOUT l'équation algébrique en appliquant les opérations inverses

.....

Exemple

1) Trouver une mesure manquante à partir de l'aire latérale d'une pyramide

Quelle la mesure du côté de la base de cette pyramide à base carré, si l'aire latérale de la pyramide est de 84 cm^2 .

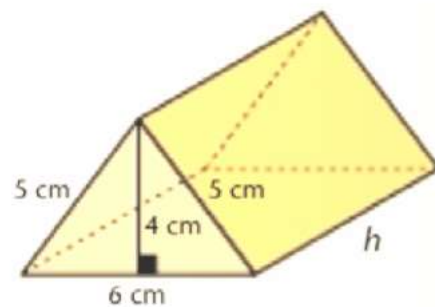


Mesure du côté de la pyramide : _____

- 2) Une pyramide a une aire latérale de $85\,560\text{ m}^2$. Son apothème mesure de 186 m .
Quel est le périmètre de sa base.

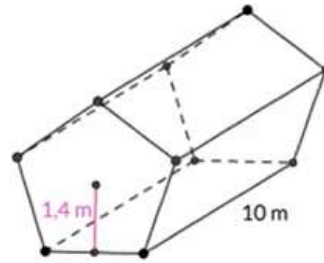
Périmètre de la base de la pyramide : _____

- 3) Le prisme suivant a une aire totale de $139,2\text{ cm}^2$. Détermine la mesure de sa hauteur.



Mesure de la hauteur du prisme : _____

- 4) Trouve la mesure du côté de la base du prisme à base pentagonale ci-dessous, sachant que son aire totale est de 114 m^2 .

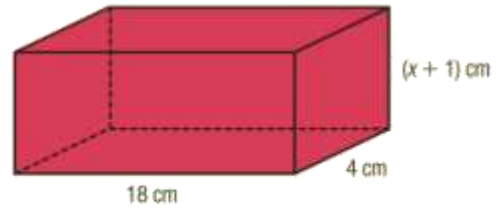


Mesure du côté de la base du prisme : _____

- 5) Quelle est la mesure du rayon de la base du cylindre suivant ? L'aire latérale du cylindre mesure $376,8 \text{ cm}^2$ et la hauteur, 15 cm .

Mesure du côté de la base du prisme : _____

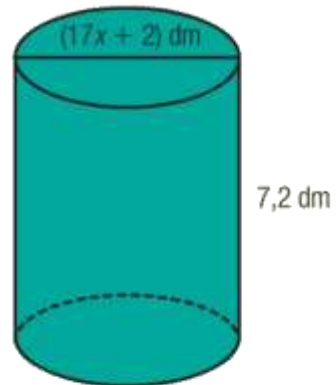
6) Détermine la valeur de x.



$$A_T = 276 \text{ cm}^2$$

Valeur de x : _____

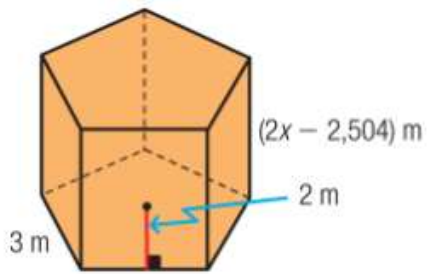
7) Détermine la valeur de x.



$$A_L = 75,6\pi \text{ dm}^2$$

Valeur de x : _____

8) Quelle est la hauteur du prisme ci-dessous sachant que l'aire latérale est $29,64\text{m}^2$?



Hauteur du prisme : _____

